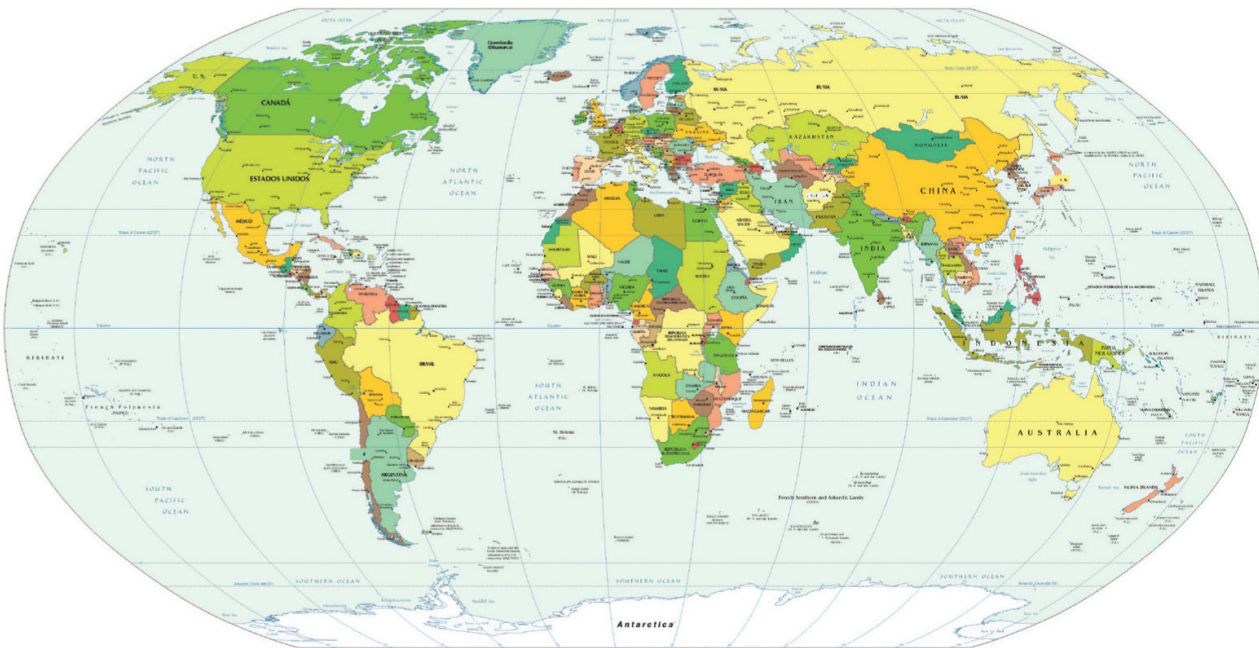


## América fue un Nuevo Mundo para muchos



1. Observen en el planisferio, y ubiquen los siguientes lugares:

- América.
- La India
- Japón.
- La Península Ibérica.
- El mar Caribe.
- Europa.
- China
- África.
- Las islas de las Antillas.
- El océano Atlántico y el Pacífico.



¿Sabías que en tiempos de Colón, India, China y Japón hacían parte de las Indias Orientales?



Trabaja en tu cuaderno

## ¿Por qué nuestro continente se llama América?

1. Lee el siguiente texto:

Américo Vespucio fue un importante navegante y cartógrafo italiano que vino al Nuevo Mundo para hacer el mapa de la tierra descubierta. Vespucio creía- como la mayoría de los europeos- que estas tierras eran islas, pero estando en tierra firme se dio cuenta de que eran territorios más extensos.

Mientras recorría en barco las costas de lo que hoy conoces como Brasil, Vespucio observó una fuerte corriente de agua dulce que penetraba con mucha fuerza en el mar, y supo que se trataba de la desembocadura de un río que venía desde demasiado lejos. Tan lejos como para que el curso del río atravesara un territorio más extenso que el de una isla.

Hoy sabemos que la corriente de agua dulce que encontró Américo en el mar de agua salada era la desembocadura del río Amazonas. Poco tiempo después en Europa, la gente empezó a hablar del continente de América.

El nombre de América viene de Américo, porque fue él quien descubrió que la tierra descubierta por Colón era un nuevo continente. Colón murió sin saber que había descubierto un continente.



Mapa Antigo de Suramérica. En esta representación se señalan dos grandes ríos, el Amazonas en la parte superior y el río de La Plata en la parte inferior.

2. Responde:

¿Crees que nuestro continente debería llamarse Colombia en honor a Colón que lo descubrió o América por Vespucio que descubrió que era un continente diferente? y ¿por qué?



Trabaja solo





Ruta de Balboa a través del Istmo de Panamá.

3. Lee el siguiente fragmento escrito por el historiador Germán Arciniegas:

El perfil del Nuevo Mundo lo van trazando, a golpes de audacia, quienes menos saben de geografía. [...] En uno de sus viajes, Colón había explorado las costas de las Guayanas y Venezuela [...] vio la América Central [...] Ahora [era] preciso unir estos dos puntos en el mapa, y explorar un pedazo de tierra que la imaginación de los castellanos ve suspendido [...]

Vive en los suburbios de Sevilla un escribano que, cuando oye hablar de estas cosas, no puede escribir más; no le obedece la pluma, él ha de ir a conquistar esa costa. Su nombre es Rodrigo de Bastidas, [...] [y] explora todo el fragmento de la costa que le ha faltado a Colón. Ese fragmento [...] que se llamará Colombia.

Como es de uso corriente, los barcos del escribano se hacen pedazos y a Santo Domingo llegan por milagro los naufragos [...]. Entre la gente que en Santo Domingo perdió hasta la camisa estaba Balboa. Había venido hacía unos diez años a América, y era en Santo Domingo, como lo fue en su tierra, un deudor rodeado de acreedores por todas partes; [...] él sabía de las Tierra Firme y sus riquezas, [...] [por lo que] resolvió [...] fugarse escondido en la nave que ofrecía el mayor peligro, [...] [dirigiéndose hacia la actual región del Darién al oeste de la actual Colombia].



4. Con base en la anterior lectura responde:

A. El texto nos habla de:

- Ⓐ El descubrimiento de la región del Darién colombiano por parte de Balboa.
- Ⓑ La elaboración de mapas que hicieron los hispanos antes del descubrimiento.
- Ⓒ Los naufragios propios del período prehispánico.

B. Un escribano fue el oficio de:

- Ⓐ Los funcionarios públicos autorizados para escribir documentos oficiales.
- Ⓑ Los navegantes aventureros.

C. Un náufrago es:

- Ⓐ Quien ha perdido su embarcación.
- Ⓑ Los escribanos aprendices.

### Los mapas del mundo tuvieron que cambiar

Vasco Nuñez de Balboa entabló contacto amistoso con los indígenas de la actual región del Darién Colombiano, por lo que ellos le contaron de la existencia de un mar y lo guiaron en una expedición que atravesó la Costa Caribe, las selvas del interior del territorio que hoy conocemos como Panamá, hasta una nueva costa, en la que avistaron un nuevo océano. La tranquilidad y calma del mar, inspiraron el nombre con que Balboa lo bautizó, Océano Pacífico. La llegada a este nuevo mar confirmó que la tierra descubierta por Colón era un continente y que había un grande océano entre América y Asia.

El mapa del mundo tenía que ser cambiado, los libros de geografía tenían que ser actualizados. Existía un continente nuevo en el gran mar entre Europa y Asia.



Balboa encontró el Océano Pacífico gracias a su amistad con los indígenas del Darién colombiano.

## El arte de la cartografía

1. Si tú vivieras en la época de Balboa, hace miles de años, y tuvieras que informar a los europeos, a través de un periódico, acerca de los resultados de la expedición de Balboa, ¿cómo lo harías?



Trabaja en tu cuaderno

2. Lee con atención la siguiente información:

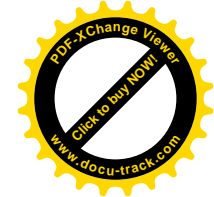
Juan de la Cosa fue el capitán y el dueño de la embarcación de la tripulación de Cristóbal Colón conocida como la Santa María. De la Cosa además fue geógrafo y cartógrafo y realizó el mapa de abajo, que es el mapa más antiguo del Nuevo Mundo. En este mapa ya se representa Cuba, la cual Colón nunca creyó que fuera una isla, incluso juró que era la costa sur de Asia, en China, que tiene una forma similar a la de Cuba.



Primer mapa que representa el nuevo mundo, elaborado por el navegante y cartógrafo Juan de la Cosa en 1500.

Colón estaba tan convencido de haber llegado a las Indias Orientales, que en Cuba buscó la residencia del Gran Khan, dirigiéndose al noroccidente, por donde llegó a Haití y a República Dominicana.

Los portugueses en 1502, dos años después del mapa De la Cosa, ya tenían un mapa bastante preciso de las Antillas y la costa nororiental del Brasil.



3. Con la ayuda del profesor trabajen sobre un mapamundi actual, localicen y tracen las siguientes trayectorias:

- La ruta que Colón planeó de Europa a Asia.
- El primer viaje de Colón a América.
- La expedición de Santo Domingo al Pacífico realizada por Balboa.



Muestra tu trabajo al profesor y a tus compañeros

4. En grupos de tres compañeros imaginen que viajan a los tiempos de Américo Vespucio, Vasco Núñez de Balboa y Cristóbal Colón para entrevistarlos, y realicen las siguientes actividades:



Trabaja con tus compañeros

- A. Cada miembro del grupo debe escoger un personaje histórico.
- B. Cada uno debe investigar los siguientes aspectos de su personaje:
  - ¿Por qué emprendió su viaje?
  - ¿Cómo fue su embarcación?
  - ¿Quiénes le acompañaban?
  - ¿De dónde zarpó su expedición?
  - ¿Qué problemas tuvo durante el viaje?
  - ¿Qué encontró en el lugar en el que desembarcó en América?

C. Los tres estudiantes deben poner en escena a los tres personajes históricos que escogieron, representándolos y poniéndolos a conversar sobre sus experiencias en ultramar y en América.



Vasco Núñez de Balboa en el pacífico colombiano.


## Los avances que permitieron las expediciones a América

5. Copia en tu cuaderno la siguiente lista de avances que hicieron posibles las expediciones a América. Luego califica cada avance con una puntuación de 1 a 6. Siendo 1 la más importante y 6 la menos importancia.

Avance tecnológico	Puntuación					
	1	2	3	4	5	6
El perfeccionamiento de las armas de fuego.						
El avance de los nuevos modelos de barcos.						
La mejora de la brújula y el astrolabio.						
La mayor exactitud de los mapas.						
El apoyo financiero de los reyes a los exploradores.						
La experticia de algunos marineros en altamar.						





Astrolabio, Persa.



Brújula antigua.

La brújula y el astrolabio hicieron posible la navegación lejos de las costas sin otro punto de referencia que las estrellas. La brújula los orientaba porque siempre señala el norte, y el astrolabio les permitió calcular la altura de las estrellas, lo que permite establecer la latitud geográfica.



# Guía 4 D

## La ruta de mi casa a la escuela y de la escuela a mi casa

1. Dibuja un mapa del trayecto o camino que recorres de tu casa a la escuela y de esta hasta tu casa. Porque al igual que Colón, Vesputcio y Balboa, tú has recorrido rutas.



2. En tu dibujo destaca:

- Elementos extraños o importantes presentes en tu ruta.
- Algo nuevo que apareció en uno de los recorridos.
- Personajes con los que sueles encontrarte en el recorrido.
- Sonidos que has escuchado y que han llamado tu atención en el recorrido.
- ¿Colores y olores te gustan de los que percibes en tu recorrido.

3. Para tu mapa, diseña convenciones, es decir símbolos que representen elementos importantes de tu territorio, por ejemplo pintas dos árboles diminutos para representar un bosque.

4. Cuando termines tu mapa asegúrate de que tenga los siguientes elementos:

- Título.
- Puntos cardinales.
- Tabla de convenciones que explique el significado de cada símbolo.

5. Completa el siguiente cuadro de texto.

Recorrido	Instrumentos
Tu ruta de la casa al colegio	¿Con qué elementos te orientaste para dibujar el mapa de tu recorrido diario?
El viaje de Colón de España a América	¿Qué instrumentos utilizó Colón para hacer su recorrido?